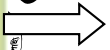
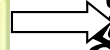
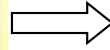





৫। গুন চিহ্ন ব্যবহার করে হিসাব করঃ



মতিলক্ষণ

কতজন

কতজন



৫। কোন শ্রেণিতে ৪ টি বেঞ্চ আছে, প্রতিটি বেঞ্চে ৩ জন করে শিক্ষার্থী বসে। সেখানে কতজন শিক্ষার্থী আছে?